



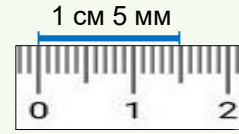
Сурагчийн нэр:

Эхэлсэн: он сар өдөр



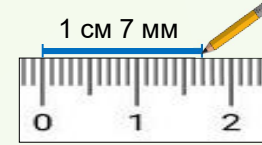
Шугам хэрэглэн хэрчмийн уртыг хэмжих

1. Хэрчмийн эхлэл дээр шугамынхаа 0 хуваарийг давхцуулж, хэрчмийн дагуу шугамаа байрлуулна.
2. Хэрчмийн төгсгөлтэй давхцах шугамын хуваарийг харж хэрчмийн уртыг бичнэ.



Шугам хэрэглэн хэрчим зурах

1. Хэрчмийн эхлэлийг цэгээр тэмдэглэнэ.
2. Тэмдэглэсэн цэгээс өгсөн зайд байрлах цэг тэмдэглэнэ.
3. Хоёр цэгийг шугамын дагуу холбож хэрчим зурна.



Уртын хэмжээг бичээрэй.

1 а.
 ___ CM ___ MM

б.
 ___ CM ___ MM

в.
 ___ CM ___ MM

г.
 ___ CM ___ MM

2 Туузын уртыг шугамаар хэмжээд, хэмжээг бичээрэй.

а.
 ___ CM ___ MM

б.
 ___ CM ___ MM

3 Хэрчмийн уртыг шугамаар хэмжээд, хэмжээг бичээрэй.

а.
 ___ CM ___ MM

б.
 ___ CM ___ MM

в.
 ___ CM ___ MM

4 Үйлдлийг гүйцэтгээрэй.

а.
 [] мм [] мм
 [] мм

б.
 [] мм [] мм
 [] см

5 Зааврын дагуу зураарй.

а. Өөрийнхөө 1 төө урттай хэрчим зураад, шугамаар хэмжээд, хэмжээг бичээрэй.

б. Өөрийнхөө 1 сөөм урттай хэрчим зураад, шугамаар хэмжээд, хэмжээг бичээрэй.



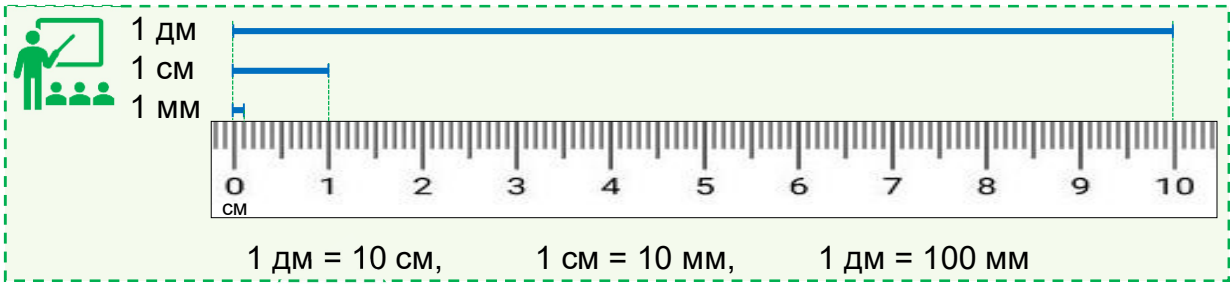
Дууссан:сарөдөр




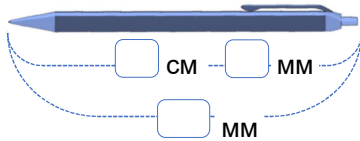
Даалгавар	1	2	3	4	5
Өөрийн үнэлгээ	😊	😊	😊	😊	😊

Сурагчийн нэр:

Эхэлсэн: он сар өдөр



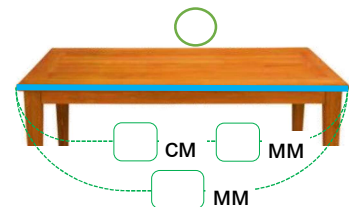
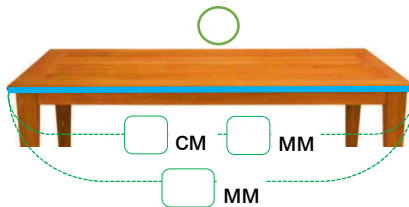
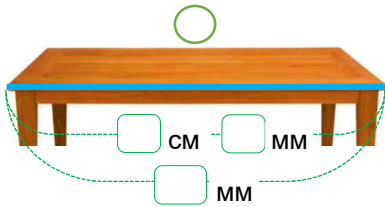
1 а. Балны уртыг шугамаар хэмжээд, миллиметрээр илэрхийлээрэй.



б. Балны уртын хэмжээг бичээд, жишээрэй.

MM MM MM

2 Тодруулсан талын уртыг хэмжээд, уртаас нь богино руу эрэмбэлж бичээрэй.



3 Шилжүүлээрэй.

а. 7 см 8 мм = мм

6 см 5 мм = мм

5 см 9 мм = мм

4 дм 3 см = см

8 дм 8 см = см

6 дм 3 мм = мм

б. 80 мм = см

6 дм = мм

5 м = см

7 см = мм

50 мм = см

90 м = дм

в. 24 дм = дм см

456 мм = дм см мм

45 мм = см мм

53 мм = см мм

76 мм = см мм

4 Үйлдлийг гүйцэтгээрэй.

2 см 4 мм + 5 см 2 мм =

21 м 6 дм + 12 м 1 дм =

15 дм 7 см - 11 дм 2 см =

7 м 8 см - 5 м 5 см =

7 см 8 мм + 8 см 4 мм =

6 см 5 мм - 3 см 7 мм =

Дууссан:сарөдөр




Даалгавар	1	2	3	4	5
Өөрийн үнэлгээ	😊	😊	😊	😊	😊



Сурагчийн нэр:

Эхэлсэн: он сар өдөр

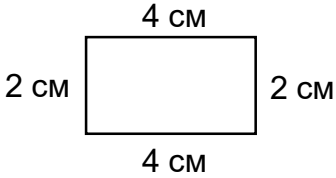


Хүү дэлгүүрээс 5 м урттай тууз авав. Харин худалдагч түүнд 1 метрээр илүү тууз өгөв. Хүү хэдэн дицметр туузтай болсон бэ?
 Бодолт: $(5 + 1) \text{ м} = 6 \text{ м}$
 $1 \text{ м} = 10 \text{ дм}$
 $6 \text{ м} = 6 \times 10 \text{ дм} = 60 \text{ дм}$

1 Хүү 3 дм тууз, охин 4 дм тууз худалдан авав. Тэд нийт хэдэн сантиметр тууз худалдан авсан бэ?

2 Хүү 7 м тууз, харин охин 7 дм тууз чимэглэв. Хүү, охин тус бүр хэдэн сантиметр тууз чимэглэсэн бэ? Хэн нь урт тууз чимэглэсэн бэ?


3 Дүрсийн хүрээний уртыг олоорой.



4 25 дм урттай туузыг 5 тэнцүү хуваах болов. Нэг хэсэгт хэдэн сантиметр ногдох вэ?

5 Ах ногооны талбайг тойруулан хашаа барихаар болов. Хашааны урт 3 м, өргөн нь уртаасаа 20 дм-ээр богино бол ногооны талбайн хүрээний уртыг олоорой.

Дууссан:сарөдөр



Даалгавар	1	2	3	4	5
Өөрийн үнэлгээ					